

I. MOLOVÉ STUPNICE – PRIRODZENÁ, HARMONICKÁ, MELODICKÁ

Milí žiaci! Ako sme sa už učili, stupnice podľa ich charakteru a toho, kde sa v nich nachádzajú poltóny, delíme na durové (veselé) a molové (smutné).


V tomto pracovnom liste si viac priblížime molové stupnice, ktoré ďalej rozdeľujeme na:

1. prirodzená molová stupnica
2. harmonická molová stupnica
3. melodická molová stupnica

Pozor: molové stupnice vždy označujeme malými písmenami abecedy (durové veľkými).

1. a mol prirodzená


ÚLOHA č.1 – doplň názvy nôt v stupnici a mol prirodzená. Ktoré tóny tvoria kvintakord?



2. a mol harmonická

Harmonickú molovú stupnicu vytvoríme tak, že v prirodzenej molovej stupnici pomocou posuviek (krížikom alebo odrážkou) **zvýšime 7. stupeň o pol tónu.**


ÚLOHA č.2 – zakrúžkuj zelenou notu **gis2** (zvýšený 7. tón) v stupnici a mol harmonická



3. a mol melodická

Melodická molová stupnica má smerom hore **zvýšený 6. a 7. stupeň**. Smerom dolu znie ako prirodzená.

ÚLOHA č.3 – zakrúžkuj modrou noty **fis2** a **gis2** (zvýšený 6. a 7. tón) v stupnici a mol melodická



Poznámka: všimni si, že smerom dole (cestou späť) je zvýšený 6. a 7. tón zrušený odrážkou)


Molové stupnice (rovnako ako durové) vieme vytvoriť od akéhokoľvek tónu, avšak vždy v nej doplníme posuvky (krížiky alebo béčka) k iným tónom. Zopakujme si poradie **predznamenaní**.

ÚLOHA č.4

Krížiky v predznamenaní:
fis, cis, gis, dis, ais, eis, his

Béčka v predznamenaní:
bé, es, as, des, ges, ces, fes

Opíš krížiky v predznamenaní.



Opíš béčka v predznamenaní.




My sme sa zatiaľ učili **molové stupnice do 2 krížikov alebo 2 béčok**. Zopakujme si ich:

Molová bez predznamenanania:	
a mol	
Molové s krížikmi:	Molové s béčkami:
e mol - 1# fis	d mol - 1b bé
h mol - 2# fis, cis	g mol - 2b bé, es

ÚLOHA č.5 – doplň k nasledujúcim stupniciam ich názov (nezabudni identifikovať, či sa jedná o prirodzenú, harmonickú alebo melodickú molovú stupnicu)


Názov stupnice: _____




Názov stupnice: _____



Názov stupnice: _____



ÚLOHA č.6 – napíš g mol harmonickú (nezabudni jej zvýšiť 7. tón)



kvintakord

ÚLOHA č.7 – spoj čiarou jednotlivé takty so správnym označením taktu (alebo vyfarbi rovnakou farbou)
