

I. OBRATY KVINTAKORDOV


Už vieme, že kvintakord je akord postavený na 1. tóne stupnice. Tvorí ho 1., 3. a 5. tón stupnice.

ÚLOHA č.1 – vytvor kvintakordy v nasledovných stupniciach




Kvintakordy vieme aj „obracať“ = meniť ich polohu a tvar. To znamená, že síce použijeme tie isté 3 tóny, ale spodným tónom nebude 1. tón stupnice, ale začneme ho písať napr. od 3. alebo od 5. tónu.

Obraty kvintarkodu robíme nasledovne:

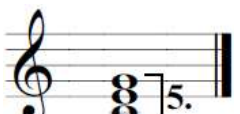




1. obrat 2. obrat




kvintakord sextakord kvartsextakord
C dur

Obraty kvintakordu teda robíme tak, že v každom obrate prepíšeme spodný tón o oktávu vyššie.

Ako značíme akordy:		Kvintakord sa značí 5 . (interval medzi krajnými tónmi je kvinta = 5)
kvintakord		Prvý obrat sa značí 6 a volá sa sextakord . (interval medzi krajnými tónmi je sexta = 6)
5		Druhý obrat sa značí 6/4 a volá sa kvartsextakord . (interval medzi krajnými tónmi je tiež sexta = 6, no obsahuje aj kvartu = 4, preto sa volá kvartsextakord)
sextakord		
6		
kvartsextakord		
6/4		

Kvintakord, sextakord a kvartsextakord C dur:



II. DREVENÉ DYCHOVÉ HUDOBNÉ NÁSTROJE

Drevené dychové nástroje sú také nástroje, u ktorých tón vzniká vtedy, keď do nástroja **fúkame** a „vdýchnutý“ **vzduch** buď narazí na hranu otvoru nástroja alebo rozkmitá plátok vo vnútri nástroja.

Pôvodne sa vyrábali z dreva a aj napriek tomu, že niektoré moderné drevené nástroje ako je napr. saxofón alebo priečna flauta sa dnes vyrábajú z iných materiálov, **stále im hovoríme drevené**.

ÚLOHA č.6 - pozri si jednotlivé drevené dychové nástroje a spoj ich názvy s obrázkami (dopíš číslo)

1. ZOBCOVÁ FLAUTA

2. KLARINET

3. HOBOJ

4. FAGOT

5. SAXOFÓN

6. PRIEČNA FLAUTA

7. PIKOLA



V nasledujúcej ukážke si vypočuj ako tieto nástroje znejú:

- <https://www.youtube.com/watch?v=Cwfj9Xx2LF4>

ÚLOHA č.7:

1. Ako vytvoríme tón u dychových nástrojoch? _____
2. Prečo im hovorím drevené dychové nástroje? _____
3. Ktorý nástroj je najdlhší a teda bude mať najhlbší zvuk? _____
4. Ktorý nástroj je najmenší a teda bude mať najvyšší zvuk? _____
5. V nasledujúcej ukážke uhádni poradie v akom počuješ jednotlivé drevené dychové nástroje:

- <https://www.youtube.com/watch?v=fxGLGGYptEc>
-